
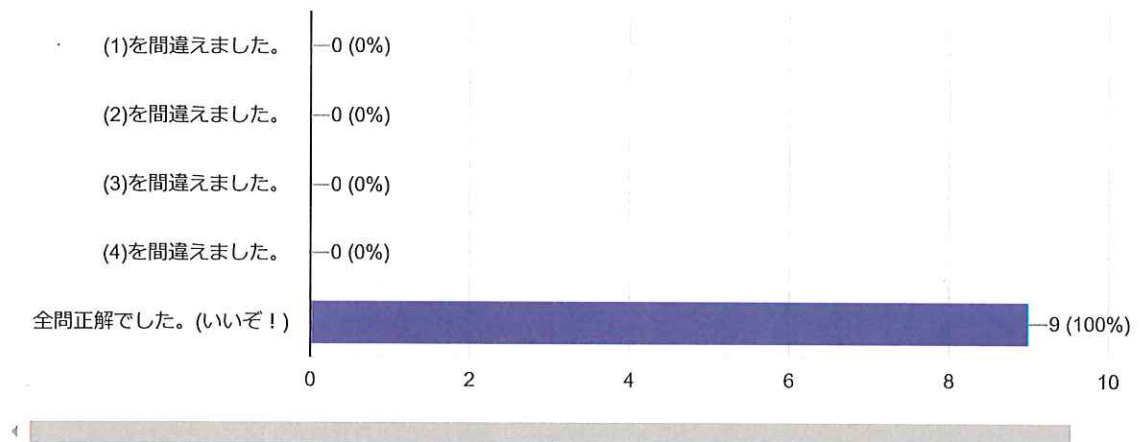


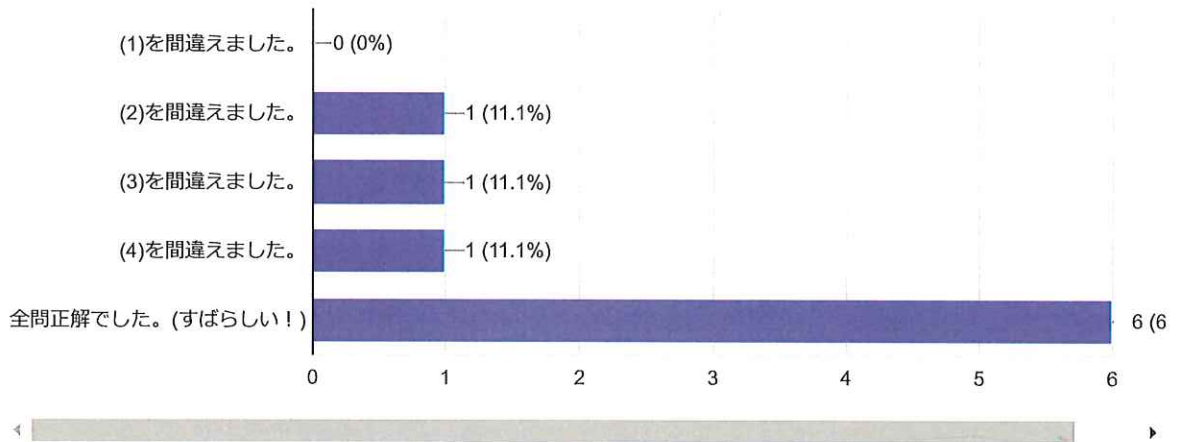
「問1 分配法則を利用して、次の計算をせよ。」の結果を答えて下さい。(複数回答可)



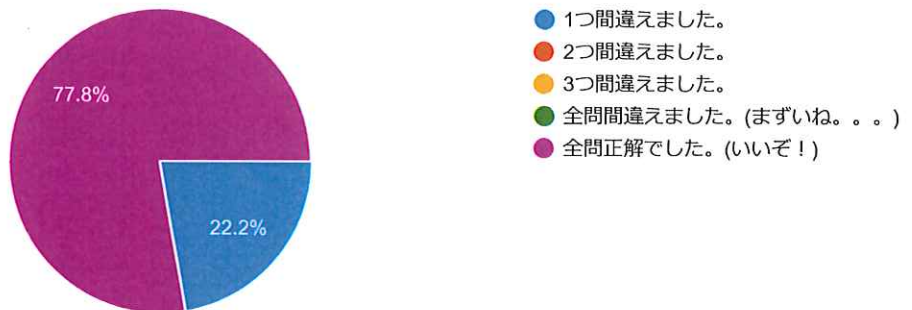
「問2 次の数は「数」、「整数」、「自然数」のどこに属するか。」の結果を答えて下さい。(複数回答可)



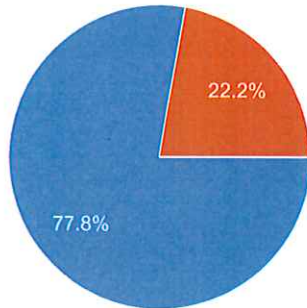
「問3 次の計算の答えが、「数」、「整数」、「自然数」のどこに属するか。」の結果を答えて下さい。(複数回答可)



「問4の(1) 上の表の()に数字を入れ、表を完成させよ。」の結果を答えて下さい。

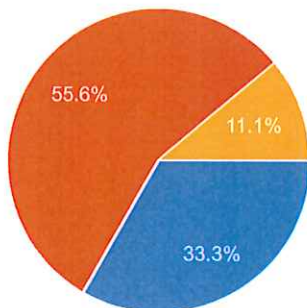


「問4の(2) 5人の得点の平均を、A君を基準とした値で式を立てて求めよ。」の結果を答えて下さい。



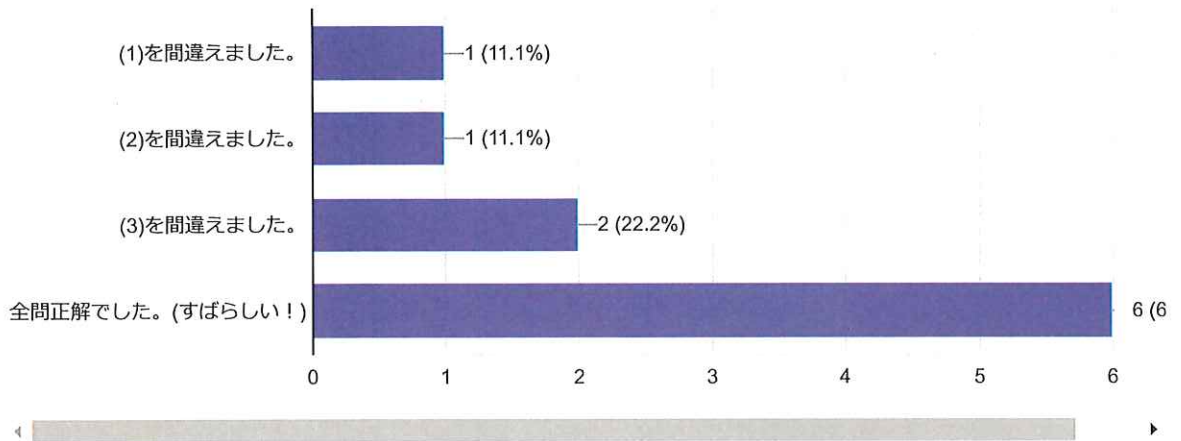
- 式も立ち、答えも正解でした。(いいね!)
- 式は立ったが、答えは間違えました。(おしい)
- 式も答えも間違えました。(うーん。。。)

「問5 20から50までの素数を全て答えよ。」の結果を答えて下さい。



- 全部正解でした。(すばらしい!)
- 1つ間違えました。(まあまあ)
- 2つ間違えました。(もう少し)
- 3つ以上間違えました。(覚えましょう!)

「問6 次の数を素因数分解せよ。」の結果を答えて下さい。(複数回答可)



例1～例4について(複数回答可)

